

Метапредметная олимпиада (3 класс)

«Путешествие на остров».

Одна семья решила отправиться отдохнуть на остров. А как проходило их путешествие, ты узнаешь, выполняя задания.

Задание 1. Одна семья решила отправиться отдохнуть на остров. В семье четверо детей. Их имена: Аня, Рома, Катя и Наташа. Им 5 лет, 8 лет, 13 лет и 15 лет. Сколько лет Наташе, если одна девочка ходит в детский сад, Аня старше Ромы, но младше Наташи? **Обведи букву выбранного ответа.**



































А. 5 лет

Б. 8 лет



В. 13 лет

Г. 15 лет

Задание 2. Все быстро собрали вещи и заняли места в личном самолёте. Папа взял инструкцию. В инструкции описаны действия для взлёта. «Необходимо включить электричество, нажать кнопку запуска первого двигателя, а затем и второго, закрыть закрылки, опустить рычаг скорости влево, поднять шасси». Выбери правильную последовательность действий. **Обведи букву выбранного ответа.**

А	      
Б	      
В	      
Г	      
Д	     

ИНСТРУКЦИЯ:

	КНОПКА ЗАПУСКА ДВИГАТЕЛЯ
	ЗАКРЫЛКИ ОТКРЫТЫ
	ЭЛЕКТРИЧЕСТВО
ВЫКЛ.	ВЫКЛЮЧИТЬ
ВКЛ.	ВКЛЮЧИТЬ
	УБРАТЬ ШАССИ
	РЫЧАГ СКОРОСТИ ОПУЩЕН ВЛЕВО

Задание 3. Но что-то пошло не так. Папа решил заняться ремонтом. Ему нужно найти документ с информацией по ремонту в бортовом компьютере самолёта. Известно, что инструкция сохранена как электронный документ. Найди её среди других файлов. **Обведи букву выбранного ответа.**

А. «Штурвал для чайников.doc»

Б. «Помощь пилоту.txt»

В. «Инструкция.doc»

Г. «Эксплуатация двигателей.pdf»

Д. «Приборная панель.jpg»

СПРАВКА:

.pdf – формат электронных документов.

.jpg – расширения фотографий.

.txt – текстовый файл.

.doc – формат файлов офисных документов.

Задание 4. Оказалось, что были неполадки в двигателе самолёта. Помогите найти в сети Интернет стоимость двигателя «CFM56» на острове Сентоза. Составьте полный и конкретный запрос.

Обведи букву выбранного ответа.

А. Цена нового двигателя CFM56

Б. Цена CFM56 Сентоза

В. Двигатель на Сентозе

Г. Новый двигатель CFM56

Д. Цена самого дешёвого двигателя CFM56 на острове Сентоза

СПРАВКА: Запрос должен быть короткий и информативный. Следует избегать союзов и предлогов. Запрос должен содержать самые важные слова по теме.

Задание 5. В то время, как папа занимался ремонтом самолёта, дети изучали карту острова, на который они должны были отправиться.

Перед тобой карта острова Сардиния. Рассмотрите её и ответьте на вопросы. **Обведи букву правильного варианта ответа.**



Вопрос А: Сколько областей граничит с Arborea?

А. две **Б.** три **В.** четыре **Г.** пять

Вопрос Б: В какой области есть город, который называется так же, как и область

А. Gallura **Б.** Logudoro **В.** Arborea **Г.** Cagliari

Вопрос В: Оцените истинность суждений, отметив крестиком «да» или «нет» по образцу.

Поле для ответа:

	А-«Да»	Б-«Нет»
Образец	X	
Города Olbia и Sassari расположены в одной и той же области.		
Город Cagliari расположен на берегу моря.		

Задание 6. Наконец всё было готово к полёту и семья начала своё путешествие. Во время полёта папа рассказал, что когда он был на острове прошлый раз, познакомился с фермером, который рассказал ему притчу.

Репортёр как-то раз спросил у фермера, может ли тот поделиться секретом своей кукурузы, которая год за годом выигрывала все конкурсы по качеству. Фермер ответил, что весь секрет состоит в том, что он раздаёт лучшие початки для засева всем своим соседям.

— Зачем же раздавать лучшие зёрна соседям, если они постоянно участвуют во всех конкурсах и являются вашими конкурентами?

— Видите ли, — улыбнулся фермер. — Ветер переносит пыльцу с моих полей на поля соседей, и наоборот. Если у соседей будут сорта хуже, чем у меня, то вскоре и мои посевы станут ухудшаться. Если я сею хорошую кукурузу, я должен позаботиться о соседях и помочь им посеять такую же. А как уж каждый из нас будет ухаживать за посевами — это другой вопрос.

Подбери подходящий плакат, передающий основную мысль этой притчи. **Обведи букву выбранного ответа.**



Задание 7. Когда семья прибыла на остров в гости к этому фермеру, их встречало много людей. Но оказалось, что все их имена являются вариацией имени Иван, встречающиеся в разных языках мира. Выбери имена, которые написаны в алфавитном порядке. **Обведи букву выбранного ответа.**

А. Вано, Ванятка, Иоганн, Ганс

В. Ян, Яни, Юн, Ион

Б. Жуан, Джованни, Джанни, Джон

Г. Вацек, Жан, Иви, Иво

Задание 8. Жители острова странно говорили. Дети не смогли понять значения 5 фраз. Помоги им определить значения фраз. **Занеси данные в таблицу.**

№ фразы	1	2	3	4
Вариант ответа				

1. Водой не разлить

А. выливать воду

Б. крепко дружить

В. набирать воду

Г. поливать твёрдую землю

2. Выйти сухим из воды

А. хорошо плавать

Б. говорить неправду

В. остаться безнаказанным

Г. быстро высохнуть

3. Как в воду канул
- А. бесследно исчез
 - Б. быстро напился
 - В. высоко прыгнул
 - Г. опасно себя ведёт

4. Рука руку моет
- А. усердно трудятся
 - Б. греются в мороз
 - В. делают что-либо с большим желанием
 - Г. защищают друг друга

Задание 9. Вся семья решила отправиться в местный зоопарк. При входе в него на воротах висела пословицу о бережном отношении к окружающему миру. Пользуясь ключом (найди букву в пересечении строки и столбца, например, 3 Г - буква Л.), запиши пословицу.

КЛЮЧ

	Б	Э	У	Г	Х
1	т	п	д	я	ш
2	о	с	р	в	ц
3	е	а	к	л	и

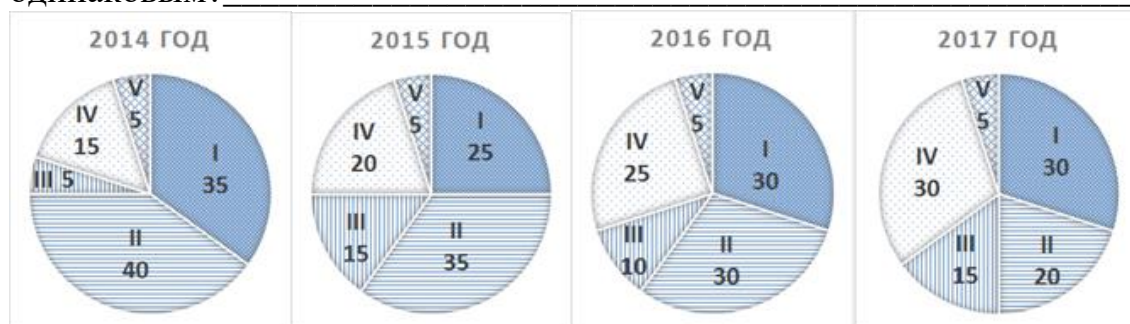
3Г	3Б	2Э		1У	3Э
	2Г	2Б	1У	3Э	
1Э	2Б	3Г	3Б		
3У	2У	3Э	2Э	1Г	1Б

Ответ _____

Задание 10. После зоопарка семья отправилась на ежегодную выставку домашних животных: выставка собак (I), выставка кошек (II), выставка экзотических птиц (III), выставка грызунов (IV), выставка рептилий (V). Изучи диаграммы, на которых показано количество питомцев, участвующих в каждой выставке за последние четыре года. **Ответь на вопросы:**

Вопрос А: Количество участников какой выставки возрастает от года к году?

Вопрос Б: Количество участников какой выставки остаётся каждый год одинаковым?



На диаграмме римскими цифрами указано название выставки, а числом - количество участников данной выставки.

**Так и закончилось путешествие на остров.
Семья вернулась домой и ещё долго вспоминала этот день.**